

A - 9 図に示す論理回路の真理値表として正しいものを下の番号から選べ。ただし、正論理とし、A及びBを入力、Xを出力とする。

1

A	B	X
0	0	0
0	1	1
1	0	0
1	1	1

2

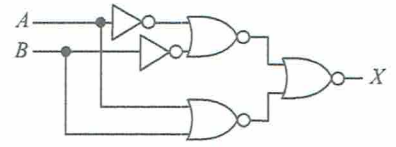
A	B	X
0	0	0
0	1	1
1	0	1
1	1	0

3

A	B	X
0	0	1
0	1	0
1	0	0
1	1	1

4

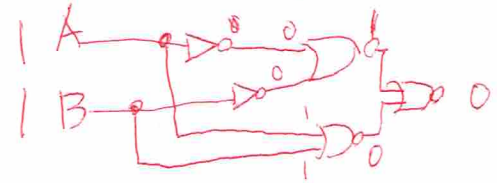


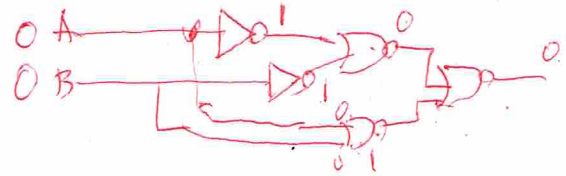
A	B	X
0	0	1
0	1	1
1	0	1
1	1	0



A	X
1	0
0	1

A	B	X
0	0	1
0	1	0
1	0	0
1	1	0

A	B	X
0	0	0
0	1	1
1	0	1
1	1	1



A	B	X
0	0	0
0	1	1
1	0	1
1	1	0