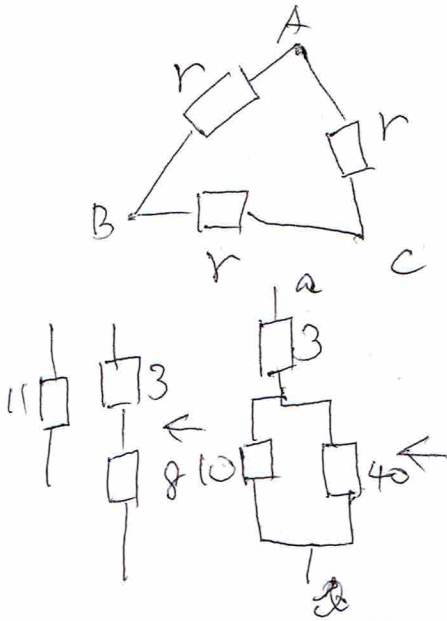
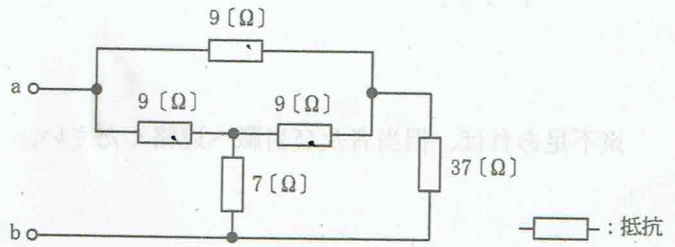
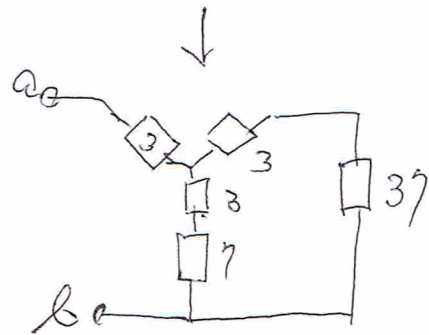
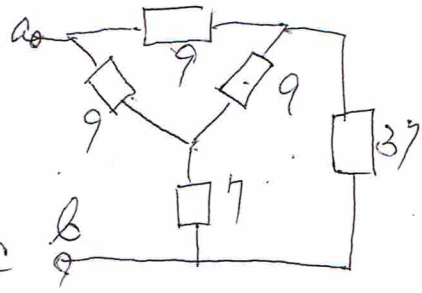
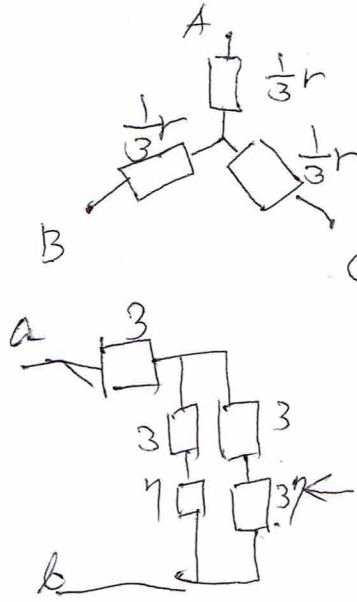


A-3 図に示す回路において、端子 ab 間の合成抵抗の値として、正しいものを下の番号から選べ。

- 1 7 [Ω]
- 2 9 [Ω]
- ③ 11 [Ω]
- 4 13 [Ω]
- 5 15 [Ω]



$$\frac{10 \times 40}{10 + 40} = \frac{400}{50} = 8$$



主



主
管

校
長
室

申
請

入
学
課

学
務
課

印
度