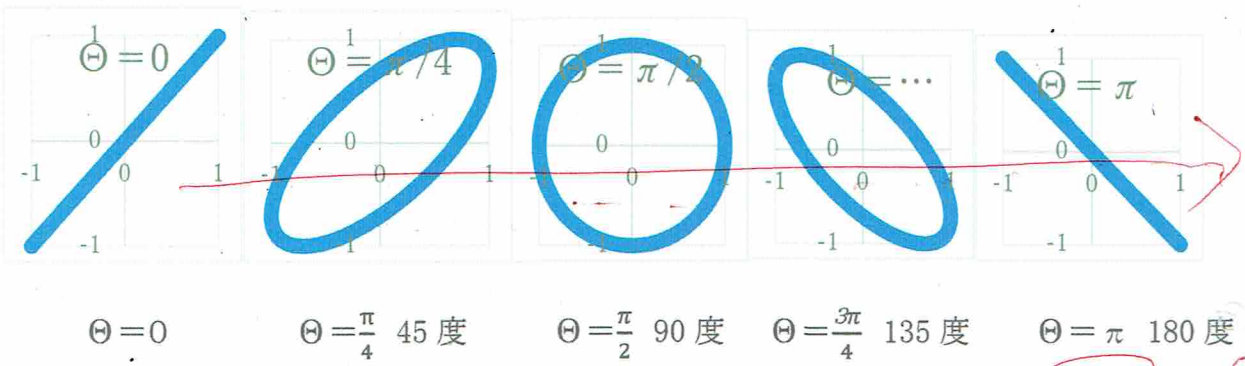
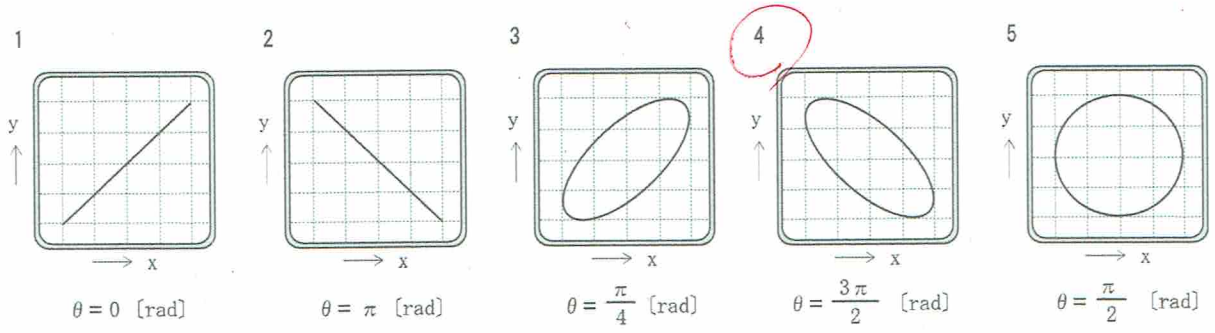
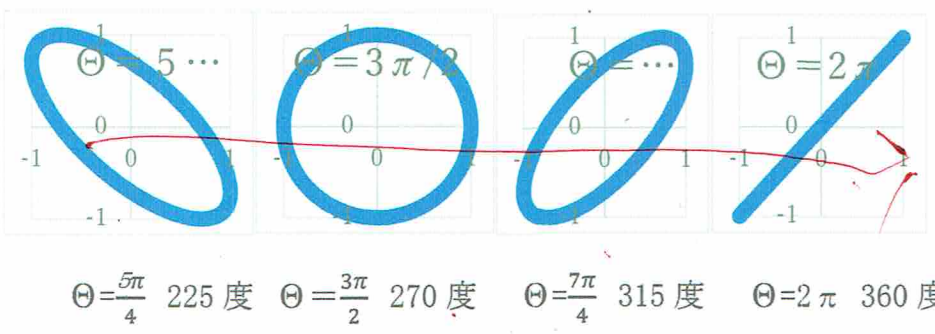


A - 25 次の図は、リサージュ図とその図形に対応する位相差の組合せを示したものである。このうち誤っているものを下の番号から選べ。ただし、リサージュ図は、オシロスコープの垂直(y)入力及び水平(x)入りに周波数と大きさが等しく位相差が $\theta$  [rad] の正弦波交流電圧を加えたときに観測されたものとする。



$\Theta = 0$        $\Theta = \frac{\pi}{4}$  45度       $\Theta = \frac{\pi}{2}$  90度       $\Theta = \frac{3\pi}{4}$  135度       $\Theta = \pi$  180度



$\Theta = \frac{5\pi}{4}$  225度       $\Theta = \frac{3\pi}{2}$  270度       $\Theta = \frac{7\pi}{4}$  315度       $\Theta = 2\pi$  360度

