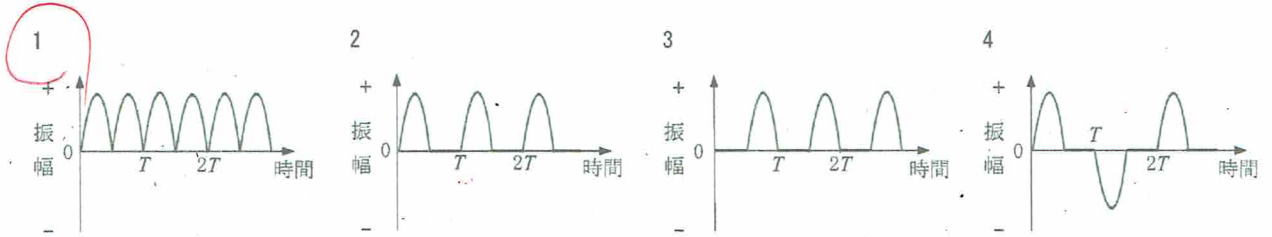
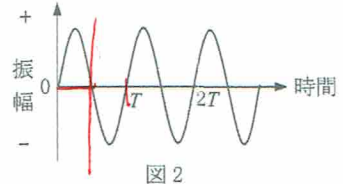
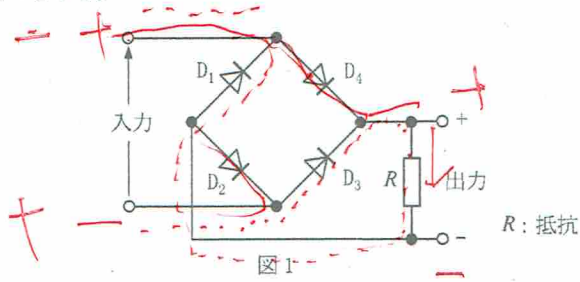



A-17 図1に示す単相ブリッジ形全波整流回路において、ダイオード  $D_4$  が断線して開放状態となった。このとき図2に示す波形の電圧を入力した場合の出力の波形として、正しいものを下の番号から選べ。ただし、図1のダイオード  $D_1 \sim D_4$  は、すべて同一特性のものとする。



(HZ104-4)



1H8CBH

ИЗДАНИЕ 1988 г. Москва